

2021 年成人高等学校招生全国统一考试高起点

历史地理

第 I 卷 (选择题, 共 80 分)

一、选择题: 1~40 小题, 每小题 2 分, 共 80 分。在每小题给出的四个选项中, 选出一项符合题目要求的。

1. 明清时期, 由于大量种植经济作物, 很多地区粮食不能自给, 如松江地区种稻之地只占 $\frac{1}{3}$, 每年都从外地运进大量粮食。这一现象【 】
A. 造成了土地的兼并
B. 推动农产品商品化
C. 阻碍了农业的发展
D. 导致了严重的饥荒
2. 自 1899 年以来, 在殷墟出土了有字甲骨 10 万片以上, 这些刻在龟甲和兽骨上的文字已经形成了完整的汉字体系, 被称为甲骨文。甲骨文的主要内容是【 】
A. 地方文书
B. 占卜记录
C. 神话传说
D. 法律规范
3. 东汉末年, 军阀割据, 长期战乱, 出现了“白骨露于野, 千里无鸡鸣”的凄惨景象。重新统一国家的是【 】
A. 蜀汉
B. 西晋
C. 曹魏
D. 东吴
4. 中国历史上有很多经济发展、政治清明的“治世”, 其中发生在西汉的是【 】
A. 文景之治
B. 贞观之治
C. 光武中兴
D. 开元盛世
5. 隋炀帝好大喜功, 追求奢侈, 每月役使的丁男达二百多万, 从江南征调木、石、花、草、禽、兽等运至洛阳, 用以布置宫苑。这些做法的后果是【 】
A. 提高皇帝个人声望
B. 促进社会经济发展
C. 推动中外文化交流
D. 导致社会矛盾激化
6. 1842 年以后, 在我国被迫开放的各通商口岸中, 上海的对外贸易增长最快, 19 世纪 50 年代已超过广州。与这一现象相关的不平等条约是【 】
A. 《辛丑条约》
B. 《南京条约》
C. 《马关条约》
D. 《北京条约》
7. 1955 年 7 月, 全国人民代表大会一届二次会议正式通过由周恩来、陈云等主持编制的第一个五年计划。属于“一五”计划重点建设的是【 】
A. 私營手工业
B. 轻工纺织业
C. 机械制造业
D. 粮食种植业
8. 南宋时, 宋理宗发布诏书, 追赠朱熹为太师、信国公, 提倡学习其著作, 认为“有补治道”。此后, 理学成为官方正统学说。属于朱熹著作的是【 】
A. 《日知录》
B. 《资治通鉴》
C. 《四书章句集注》
D. 《春秋繁露》
9. 甲午战争中, 黄海海战是中日海军的一次主力决战。此次战役中, 为国捐躯的清军将领是【 】
A. 叶志超
B. 左宝贵
C. 丁汝昌
D. 邓世昌

10. 1917年2月,陈独秀在《新青年》发文,“推倒雕琢的阿谀的贵族文学,建设平易的抒情的国民文学”。这篇文章是 【 】
- A.《庶民的胜利》 B.《文学革命论》
C.《文学改良刍议》 D.《我的马克思主义观》
11. 文艺复兴时期的画家们大多在作品中追求和表现时代精神与人格力量,被恩格斯称为“文艺复兴时期的巨人”的是 【 】
- A. 莎士比亚 B. 达·芬奇
C. 但丁 D. 米开朗琪罗
12. 据统计,1965年我国工农业总产值达到1964亿元,比1962年增长55%;1963年至1965年,平均年增长速度为15.7%,超过“一五”期间的速度。这主要是由于党中央 【 】
- A. 坚持独立自主的外交方针 B. 对国民经济进行了适时调整
C. 推进三大改造的顺利完成 D. 提倡科学技术是第一生产力
13. 1787年宪法确立了美国共和政体,但其仍有明显的局限性,表现为 【 】
- A. 政府没有税收权 B. 议员由推荐产生
C. 奴隶制依然存在 D. 各州享有外交权
14. 1980年,中共中央和国务院决定在深圳、珠海、汕头、厦门试办经济特区。经济特区的特殊性主要体现在 【 】
- A. 风土民情 B. 经济政策
C. 历史传统 D. 政治制度
15. 西方早期殖民扩张活动中,大量贵金属源源不断流入欧洲,引发了 【 】
- A. 价格革命 B. 西进运动
C. 农奴制改革 D. 文明开化
16. 19世纪中期,欧洲工人运动蓬勃发展,在伦敦成立了“国际工人协会”。该协会又被称为 【 】
- A. 第二国际 B. 共产国际
C. 第一国际 D. 大陆会议
17. 20世纪40年代末,美国为扶持和控制西欧,通过了援助欧洲的经济计划,一定程度上促进了战后欧洲资本主义经济的恢复。该计划是 【 】
- A. 曼哈顿计划 B. “星球大战”计划
C. 通晓新计划 D. 马歇尔计划
18. 20世纪50年代中后期,赫鲁晓夫在经济领域实行了一系列改革,改革的重点在 【 】
- A. 服务业 B. 农业
C. 工业 D. 商业
19. 第一次世界大战后,土耳其爆发的反封建和争取民族独立的运动是 【 】
- A. 明治维新 B. 卢德运动
C. 马赫迪大起义 D. 凯尔革命
20. 1935年12月,毛泽东在党的活动分子会议上做报告,指出“我们要把敌人营垒中间的一切争斗、缺口、矛盾,统统收集起来,作为反对当前主要敌人之用”。这主要是为了 【 】
- A. 联合民族资产阶级反对国民党
B. 在延安开展整风运动
C. 建立广泛的抗日民族统一战线
D. 在根据地实行土地改革

2020年12月8日,中国和尼泊尔两国元首共同向全世界宣布,位于中尼两国交界处的珠穆朗玛峰高程为8 848.86米。图1为尼泊尔简图。据此完成21~23题。



21. 中国珠峰登山队从北坡登顶,攀登时间宜选择在 【 】
- A. 3月 B. 5月
C. 7月 D. 9月
22. 在2020年珠峰高程测量过程中,中国登山队员使用了北斗卫星导航系统。该系统的主要作用是 【 】
- A. 监测登山期间的天气变化 B. 获取登山位置的定位信息
C. 管理并分析高程测量数据 D. 储藏并运送登山生活物资
23. 尼泊尔境内及中尼边境分布有多座海拔8 000米以上的山峰。这些山峰的形成是 【 】
- A. 亚欧板块和印度洋板块碰撞挤压的结果
B. 非洲板块内部张裂的结果
C. 太平洋板块内部张裂的结果
D. 美洲板块和太平洋板块碰撞挤压的结果

家住安徽的小明回家度假，他的房间窗户朝向正西，某日黄昏，小明站在窗前远眺，看到落日正位于窗外右前方楼顶的上空(图2)。据此完成24~26题。

24. 此时，落日在小明家的
 A. 正西方
 B. 东南方
 C. 正北方
 D. 西北方
25. 这个假期可能是
 A. 元旦
 B. 春节
 C. 端午
 D. 国庆
26. 当日，日出时间最接近
 A. 5:30
 B. 6:30
 C. 7:30
 D. 8:30



图2

小亮在某大学研学期间，发现校园行道树的树穴内覆盖鹅卵石(图3)。这所大学所在城市1月均温在5℃左右。据此完成27~28题。



图3

27. 这所大学可能位于
 A. 长春
 B. 北京
 C. 杭州
 D. 昆明
28. 除美化环境外，树穴内覆盖鹅卵石主要是为了
 A. 提高土壤肥力，避免表土养分流失
 B. 增强地表硬度，防止树穴杂草丛生
 C. 便于雨水下渗，减少土壤水分蒸发
 D. 加固树木根基，增加树木的支撑力

背风群岛(图4)原属西班牙殖民者命名的向风群岛的一部分，后来英国殖民者将其改名为背风群岛，沿用至今。实际上，背风群岛受台风侵袭。西方殖民者奴役原住民和黑奴在该群岛种植甘蔗，目前当地仍盛产甘蔗。据此完成29~30题。



图4

29. 该群岛一年中大部分时段盛行
 A. 西北风
 B. 东北风
 C. 西南风
 D. 东南风
30. 背风群岛盛产甘蔗的主要优势条件是
 A. 气候垂直差异显著
 B. 气温日较差大
 C. 水分和热量充足
 D. 火山灰分布范围广

云南省某山村石多土少，主要种植水稻和玉米。图5示意该村某农户的地块分布(数字表示地块与农户住宅之间的距离)，这些地块的土质和面积接近。据此完成31~32题。

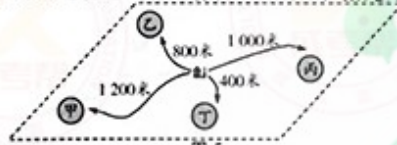


图5

31. 该农户计划选择一块地种植蔬菜，最适宜的地块是
 A. 甲
 B. 乙
 C. 丙
 D. 丁
32. 当地难以实现规模化种植，主要是由于耕地
 A. 土层较薄
 B. 分布零散
 C. 沙化严重
 D. 质量不均

甘肃省渭源县(图6)根据自然环境差异可分为南部高寒阴湿区、中部浅山河谷川(塬)区和北部黄土梁峁沟壑干旱区。该县有“千年药乡”的美誉，盛产多种中药材，以喜温凉的黄芪、喜阴寒的当归、喜凉耐旱的党参产量最大。目前，该县中药材种植已成为乡村振兴的主导产业。据此完成33~34题。

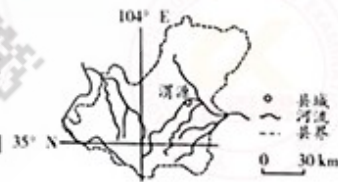


图6

33. 黄芪、当归、党参在渭源县的适宜种植区依次为
 A. 南部、中部、北部
 B. 中部、北部、南部
 C. 北部、中部、南部
 D. 中部、南部、北部

第Ⅱ卷(非选择题,共70分)

二、非选择题:41~45小题,共70分。

41. 回答问题。(12分)

1924年,孙中山接受中国共产党的意见,确立了“联俄、联共、扶助农工”的三大政策,重新解释三民主义。简述新三民主义与中国共产党民主革命纲领的联系与区别。

42. 阅读材料,回答问题。(12分)

材料 科举制度滥觞于隋而成熟于唐。唐朝科举考试既有每年举行的常科,还有临时不定期由皇帝亲自主持的制科。常科分为秀才、明经、进士、明法等科;制科以策论为主,也考经史与诗赋。士人一旦被录取,“文策高者,特授以美官,其次与出身”。科举制为下层的读书人开辟了一条入仕的道路,有利于国家广泛地选拔经邦治国的优秀人才。

——摘编自张岂之主编《中国历史》

简述隋唐时期科举制度的主要内容及影响。

43. 阅读材料,回答问题。(11分)

材料 1961年9月,第一次不结盟国家和政府首脑会议在贝尔格莱德举行。出席会议的有25个国家,通过了《会议宣言》。《宣言》宣布:不结盟国家鼓励和支持为自己的独立和平等而进行斗争的各国人民;主张立即无条件地、彻底地和最后废除殖民主义,并共同努力制止各种新殖民主义;强调“和平共处的原则,是代替‘冷战’和可能发生的全面核灾祸的唯一的办法”。《宣言》表示“不结盟国家无意组成一个新的集团而且也不能成为一个集团”。

——摘编自齐世荣主编《世界史》

说明不结盟运动兴起的原因及意义。

44. 阅读图表材料,完成下列要求。(17分)

图10示意我国历次人口普查部分数据。表1为我国历次人口普查城镇化率。

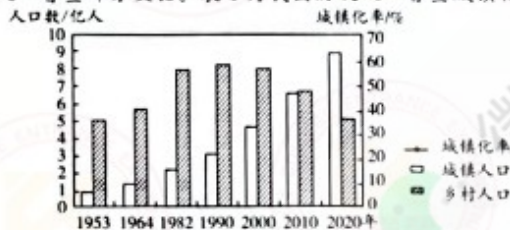


图10

表1

年份/年	1953	1964	1982	1990	2000	2010	2020
城镇化率/%	13.3	18.3	20.9	26.4	36.2	49.7	63.9

(1)根据表1数据,补绘我国城镇化率变化折线。(5分)

(2)归纳我国城乡人口变化特点。(12分)

45. 阅读图文材料,完成下列要求。(18分)

大陆冰川在向海洋运动的过程中,侵蚀海岸,形成槽谷;冰川退却后,海水侵入槽谷,形成峡湾。图11所示区域是典型的峡湾分布区之一,其陆地部分在末次冰盛期被巨厚的冰川覆盖,目前仍分布有面积较大的现代冰川。该区域的东南部沿海地区森林茂密。峡湾风光和冰川地貌吸引众多摄影爱好者和地理学者前往。

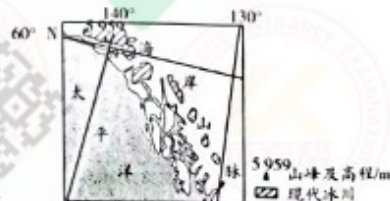


图11

- (1)描述图示区域现代冰川的分布特征。(6分)
- (2)分析图示沿海地区森林茂密的自然条件。(6分)
- (3)列举世界其他一处可以观赏到峡湾景观的地方,指出观赏季节并说明理由。(6分)

参考答案及解析

一、选择题

- 1.【答案】B
【应试指导】本题考查明清时期的经济发展。在明清时期,中国社会出现了资本主义萌芽,商品经济得到发展,经济作物的栽培在规模和品种上都有显著发展,从而导致很多地区粮食种植面积减少,经济作物种植面积扩大,农业和市场联系加强,最终推动了农产品的商品化。
- 2.【答案】B
【应试指导】本题考查甲骨文的内容。甲骨文主要为占卜记事卜辞,大部分是殷商王室占卜的记录。完整的甲骨大小根据占卜主体的身份不同而异。
- 3.【答案】B
【应试指导】本题考查三国两晋南北朝的史实。东汉末年,众多军阀割据混战,社会动荡不安,人民生活苦不堪言,形成魏、蜀、吴三国鼎立的局面。公元280年,西晋派兵灭吴,统一南北。
- 4.【答案】A
【应试指导】本题考查西汉的“文景之治”。西汉初期,汉文帝、汉景帝相继实行“休养生息”的政策,政治清明,社会安定,国家富裕。历史上称这一时期为“文景之治”。B、C、D三项分别出现于初唐、东汉、盛唐。
- 5.【答案】D
【应试指导】本题考查隋朝的统治。隋炀帝统治时期,好大喜功,频繁发动战争,滥用民力,穷奢极欲,使得国库空虚,民不聊生,最后导致社会矛盾激化,天下大乱,隋朝覆亡。
- 6.【答案】B
【应试指导】本题考查《南京条约》。1842年,清政府被迫与英国签订了近代第一个不平等条约——《南京条约》。清政府被迫开放广州、厦门、福州、宁波、上海五处为通商口岸。A、C、D三项签订时间分别是1901年、1895年和1860年。
- 7.【答案】C
【应试指导】本题考查新中国“一五”计划的基本任务。第一个五年计划的基本任务之一就是集中主要力量发展重工业,建立国家工业化和国防现代化的初步基础。其特点是优先发展重工业。
- 8.【答案】C
【应试指导】本题考查朱熹的著作。朱熹是南宋时期的理学家,著有《四书章句集注》《太极图说解》《通书解》《周易读本》《楚辞集注》等,其中《四书章句集注》成为钦定的教科书和科举考试的标准。A、B、D三项分别是顾炎武、司马光和董仲舒的著作。
- 9.【答案】D
【应试指导】本题考查中日甲午战争的史实。在甲午战争的朝鲜战场,左宝贵战死,叶志超弃城逃走。在黄海海战中,“致远”号多次中弹,管带邓世昌下令开足马力,向敌舰撞去,不幸被鱼雷击中,邓世昌和金船将士壮烈牺牲;丁汝昌身负重伤。
- 10.【答案】B
【应试指导】本题考查陈独秀和新文化运动。1917年,陈独秀发表《文学革命论》一文,主张废除反映封建思想的旧文学,提倡反映现实的新文学,号召打倒“贵族文学”,建设“国民文学”,要求从形式到内容进行文学改革。A、D两项是李大钊的作品,C项是胡适的作品。
- 11.【答案】B
【应试指导】本题考查文艺复兴时期的代表人物。达·芬奇,意大利人,文艺复兴时期的著名画家,代表作有《最后的晚餐》和《蒙娜丽莎》,被恩格斯称为“文艺复兴时期的巨人”。
- 12.【答案】B
【应试指导】本题考查20世纪60年代国民经济的调整与发展。从1960年冬开始,党中央开始纠正农村工作中的“左”倾错误,对国民经济实行“调整、巩固、充实、提高”的方针。从1962年起,国民经济逐步恢复和发展起来。到1965年,国民经济全面好转,调整国民经济的任务基本完成。
- 13.【答案】C
【应试指导】本题考查美国1787年宪法。1787年,美国制定了第一部宪法。宪法存在一定的局限性,如允许奴隶制存在,不承认黑人和印第安人具有同白人平等的权利。
- 14.【答案】B
【应试指导】本题考查我国设立的经济特区。1979年,根据广东、福建两省靠近港澳、华侨众多的有利条件,党中央和国务院决定,对两省的对外经济活动实行特殊优惠政策。1980年,正式确定在广东的深圳、珠海、汕头和福建的厦门设置经济特区。
- 15.【答案】A
【应试指导】本题考查新航路开辟的历史意义。新航路的开辟引起了“价格革命”,由于大量贵金属流入欧洲,造成金银价下降,物价猛涨,加速了西欧封建制度的衰落和资本主义的发展。

16.【答案】C

【应试指导】 本题考查国际工人协会。第一国际,即国际工人协会,是1864年建立的国际工人联合组织。第一国际是在19世纪50年代末、60年代初欧洲工人运动和民主运动重新高涨的形势下产生的,于1876年宣告解散。

17.【答案】D

【应试指导】 本题考查马歇尔计划。为了达到稳定和控制西欧、遏制苏联的目的,1947年6月,美国国务卿马歇尔提出了“欧洲复兴计划”,即马歇尔计划,以扶持和控制西欧国家。

18.【答案】B

【应试指导】 本题考查赫鲁晓夫的经济改革。赫鲁晓夫积极推行经济改革,调整农业政策和改进农业管理体制,改革工业管理体制,使苏联的民生经济得到改善。其重点是农业改革,注重减轻农民负担,改革农业计划制度,在一定程度上促进了苏联农业的发展。

19.【答案】D

【应试指导】 本题考查第一次世界大战后的民族独立运动。第一次世界大战后,土耳其资产阶级代表人物穆斯塔法·凯末尔·阿塔图尔克领导了以反对帝国主义侵略瓜分、捍卫民族独立主权和建立民族国家为目的的资产阶级革命运动——凯末尔革命。A、B、C三项分别发生于日本、英国和苏丹。

20.【答案】C

【应试指导】 本题考查瓦窑堡会议。1935年12月,瓦窑堡会议结束两天后,毛泽东根据会议精神,在党的活动分子会议上做了《论反对日本帝国主义的策略》的报告。瓦窑堡会议决议和毛泽东的报告,分析了日本侵略者打进中国之后社会各阶级之间相互关系的变化,明确提出了党的基本策略任务是建立广泛的抗日民族统一战线,从而解决了党的政治路线问题。

21.【答案】B

【应试指导】 本题考查珠穆朗玛峰的攀登时间。珠穆朗玛峰是世界最高峰,位于喜马拉雅山脉中段,北纬28°附近,正处于地球上大气环流季节转换最为明显的地区。在5月中旬至下旬,西风急流中心位于北纬30°以北,即远离珠穆朗玛峰上空,且其强度也比前期减弱了。此时正是攀登珠穆朗玛峰的最佳时段。

22.【答案】B

【应试指导】 本题考查北斗卫星导航系统的作用。北斗卫星导航系统由空间段、地面段和用户段三部分组成,可在全球范围内全天候、全天时为各类用户提供高精度和高可靠的定位、导航、授时服务。在2020年珠峰高程测量过程中,该系统用于获取登山位置的定位信息。

23.【答案】A

【应试指导】 本题考查板块的运动。尼泊尔为南亚内陆山国,位于亚欧板块和印度洋板块的交界处,在两大板块相碰撞挤压的地区,常形成山脉。该地区地壳活动频繁,多地震。

24.【答案】D

【应试指导】 本题考查太阳的方位。以窗户朝向正西为坐标点,根据落日位于窗户右前方楼顶的上空可以推断出,此时落日在窗户的西北方。

25.【答案】C

【应试指导】 本题考查太阳直射。太阳直射位置不同,日出日落的方向也就不同。当太阳直射在北半球时,是东北升起,西北落下;当太阳直射在南半球时,是东南升起,西南落下。根据21题可知,此时太阳是从西北方向落下,故太阳直射北半球。此时北半球处于夏季,安徽属于北半球,故可推出这个假期是端午。

26.【答案】A

【应试指导】 本题考查日出时间。依题意,此时正值北半球的夏季,位置在北回归线以北,昼长大于夜长,故日出时间在6点以前。

27.【答案】C

【应试指导】 本题考查地域差异。长春和北京1月份平均气温在0℃以下。昆明比杭州的纬度低,1月份平均气温较高,而杭州位于秦岭—淮河以南,离我国1月份等温线较近,1月份平均气温在5℃左右。

28.【答案】C

【应试指导】 本题考查城市绿化。鹅卵石之间的孔隙较大,在雨季有利于雨水下渗。同时,由于有砾石的覆盖,能够减少高温时土壤水分的蒸发。

29.【答案】B

【应试指导】 本题考查全球气压带、风带的分布、移动规律及其对气候的影响。读图可知,背风群岛位于加勒比海海域,处在赤道与北回归线之间的热带。赤道与北回归线之间的地区为北半球的信风带,常年盛行东北风。

30.【答案】C

【应试指导】 本题考查农业区位因素。影响农业的主要区位因素有:气候、地形、水源、土壤、市场、技术、交通运输、政策、劳动力等。背风群岛盛产甘蔗的首要条件是水分、热量充足。

31.【答案】D

【应试指导】 本题考查农业种植。种植蔬菜需要经常照看,距离住宅近的地块比较适宜,故选择离住宅最近的丁地。

32.【答案】B

【应试指导】 本题考查地形对农业生产的影响。云贵高原某村石多土少,图中的地块分布不均匀,相隔较远,因此难以实现规模化种植。

33.【答案】D

【应试指导】 本题考查影响农业分布的因素。黄民喜温暖,适合种植在中部河谷;当归喜阴寒,适合种植在南



部高寒阴湿的地区;党参耐寒,可以种植在北部水源不足很充足的干旱区。所以,黄芪种植在中部,当归种植在南部,党参种植在北部。

34.【答案】D

【应试指导】本题考查促进农业经济发展的措施。该地区依托中草药促进经济发展,可以进行中草药深加工,以提高产品附加值。

35.【答案】D

【应试指导】本题考查人口迁移。根据图中五个城市群的外际流入人口占新增流入人口的比重可以看出,长江三角洲城市群的外际流入人口占新增流入人口比重最高。

36.【答案】C

【应试指导】本题考查人口迁移。沿海城市群的外际流动活跃,规模较大,而内陆城市的人口流动一般以省内流动为主。

37.【答案】A

【应试指导】本题考查城市通勤。图中通勤量大的12个热点城镇,有7个位于上海市辖区。根据图例来看,通勤量较大的城市基本上都位于上海市辖区。

38.【答案】C

【应试指导】本题考查城市人口流动的因素。人口流动的规模之所以越来越大,在很大程度上得益于交通运输业的迅速发展。交通运输业的迅速发展,可以缩短人们的出行时间。

39.【答案】D

【应试指导】本题考查城市人口划分。图示中某一工作日1线的停车高峰在夜间,而2线的停车高峰在白天,可以推断出1线代表的居住区,2线代表的办公区。

40.【答案】B

【应试指导】本题考查城市交通和环保。推行共享汽车既不能节省城市的停车空间,也不能缓解城市交通拥堵,更不能替代城市公共交通。共享汽车为纯电动汽车,可以减轻城市大气污染。

二、非选择题

11. 答案要点:(12分)

(1)联系:新三民主义与中国共产党民主革命纲领的若干基本原则是一致的,是国共两党合作的政治基础。(4分)

(2)区别:中国共产党民主革命纲领中有彻底实现人民权力、八小时工作制和彻底的土地革命纲领;民主革命阶段之后,还有一个社会主义革命阶段,实现社会主义和共产主义社会的最高革命纲领。新三民主义没有这些内容。(8分)

12. 答案要点:(12分)

(1)内容:考试分为常科与制科,以进士、明经两科为主;武则天时所首创武举与殿试。(4分)

(2)影响:冲破世家大族垄断仕途的局面;扩大了官吏来源,大批庶族地主知识分子得以参加政权;提高了官员的文化素质;加强了中央集权;为历朝沿用,影响深远。(8分)

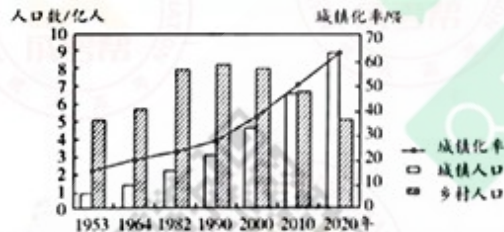
13. 答案要点:(11分)

(1)原因:二战后,民族解放运动蓬勃发展,新兴独立国家反对新老殖民主义,发展民族经济;美苏冷战对峙日益加剧,民族独立国家希望保持和平中立。(5分)

(2)影响:第三世界崛起,并作为一支独立政治力量登上国际舞台;一定程度上冲击了美苏两极格局;第三世界在国际事务中日益发挥重要作用,越来越多的第三世界国家加入联合国,为建立国际政治经济新秩序发挥了突出作用。(6分)

14. 答案要点:(17分)

(1)见图。(5分)



(2)城镇人口逐渐增加,城镇化率持续提高。(4分)1990年(“四普”)以前乡村人口呈增长趋势,1990年以后呈下降趋势。(4分)2010年(“六普”)以前乡村人口多于城镇人口,2010年城乡人口接近,2020年(“七普”)城镇人口超过乡村人口。(4分)

15. 答案要点:(18分)

(1)位于山体顶部,不连续块状分布,大致呈西北—东南走向;北部(纬度较高)地区面积较大,南部(纬度较低)地区面积较小。(6分)

(2)地处西风带,沿岸有暖流经过,海岸线曲折,利于暖湿气流进入;暖湿气流遇山地抬升,多降水。(6分)

(3)略。(6分)